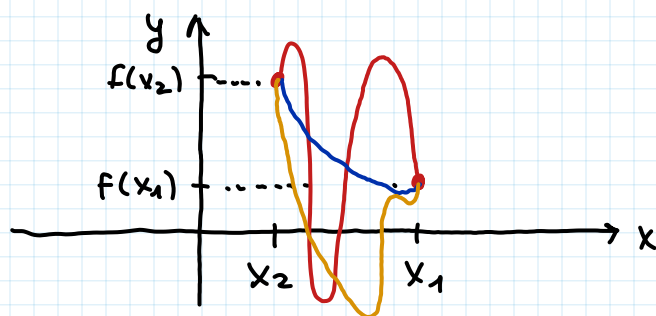


PROCHAINE FOIS : QCM (Vendredi 28/11 à 17h)

## 2 Sens de variation d'une fonction

### 2.1 Questions de cours

2. Soit une fonction  $f$  définie sur un ensemble  $E$ . Il existe deux valeurs de  $E$ ,  $x_1$  et  $x_2$ , telles que  $x_1 > x_2$  et  $f(x_1) < f(x_2)$ . A partir de cette information, pouvez-vous conclure que la fonction  $f$  est positive sur  $E$ , négative sur  $E$ , croissante sur  $E$ , décroissante sur  $E$  ou n'avez-vous pas assez d'information pour conclure sur le signe et/ou le sens de variation de  $f$  sur  $E$ ?



On peut rien conclure sur le signe et/ou sur le sens de variation.

On peut dire que  $f$  n'est pas (toujours) croissante sur  $E$ .

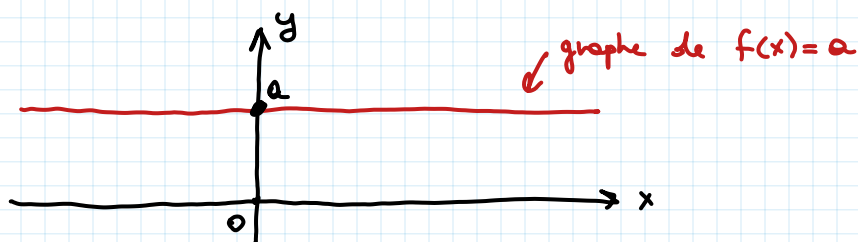
3. Soit une fonction  $f$  définie sur un ensemble  $E$  telle que  $y = f(x)$ . Comment fait-on pour déterminer si la fonction  $f$  est croissante sur son ensemble de définition?

Si  $f$  est dérivable, alors il suffit de vérifier si  $f'(x) \geq 0$  pour tout  $x \in E$ .

Si  $f$  n'est pas dérivable, il faut procéder « à la main » en vérifiant que  $\forall x_1, x_2 \in E, x_1 < x_2 \Rightarrow f(x_1) \leq f(x_2)$

4. Quelle est le type de fonction pour lequel on a  $f'(x) = 0$  pour tout  $x \in \mathbb{R}$ ?

Les fonctions constantes  $f(x) = a$ , avec  $a \in \mathbb{R}$  constante fixée



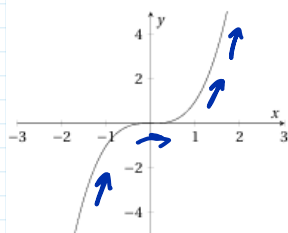
5. Les graphes de 4 fonctions définies sur  $\mathbb{R}$  sont représentés ci-dessous.

(a) Quelle(s) fonction(s) est(sont) croissante(s) pour tout  $x \in \mathbb{R}$ ? **a) et b)**

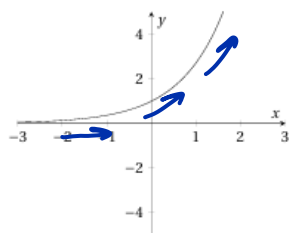
(b) Quelle(s) fonction(s) est(sont) telle(s) que  $f'(x) < 0$  pour tout  $x \in \mathbb{R}$ ? **d)**

$\Leftrightarrow f$  est strictement décroissante sur  $\mathbb{R}$

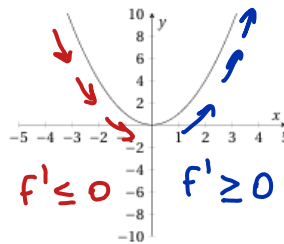
Fonction (a)



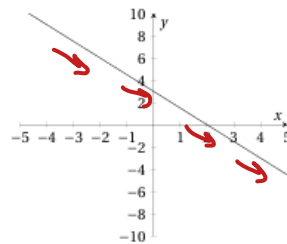
Fonction (b)



Fonction (c)



Fonction (d)



croiss.  
 $f'(x) \geq 0$   
( $\forall x \in \mathbb{R}$ )

croiss.  
 $f'(x) \geq 0$   
( $\forall x \in \mathbb{R}$ )

croiss:  $x > 0$   
décroiss:  $x < 0$

décroiss  
 $f'(x) \leq 0$   
( $\forall x \in \mathbb{R}$ )

## 2.2 Calculs de dérivées et analyse des sens et ampleurs de variation

On s'intéresse à une variable  $y$  qui dépend d'une variable  $x$ . On veut savoir comment évolue  $y$  pour de petites variations de  $x$ . Pour chacune des fonctions suivantes, identifiez le type fonction (constante, affine, puissance, polynôme, composée de fonctions,...), calculez la dérivée première et enfin commentez comment évolue  $f(x)$  avec  $x$ . NB : vous pouvez vous appuyer sur le formulaire fourni en fin d'énoncé.

### 3.5 Formulaire des dérivées

Soit  $f$  une fonction dérivable au point  $x$ .

Fonction $f$	Domaine de définition de $f$	Dérivable sur	Dérivée $f'$
$f(x) = a$	$\mathbb{R}$	$\mathbb{R}$	0
$f(x) = ax + b$	$\mathbb{R}$	$\mathbb{R}$	$a$
$f(x) = x^a$	$\mathbb{R}$	$\mathbb{R}$	$ax^{a-1}$
$f(x) = \frac{1}{x}$	$\mathbb{R}^*$	$\mathbb{R}^*$	$-\frac{1}{x^2}$
$f(x) = \frac{1}{x^n} = x^{-n}$	$\mathbb{R}^*$	$\mathbb{R}^*$	$-\frac{n}{x^{n+1}} = -nx^{-n-1}$
$\sqrt{x}$	$]0; +\infty[$	$]0; +\infty[$	$\frac{1}{2\sqrt{x}}$
$\ln(x)$	$]0; +\infty[$	$]0; +\infty[$	$\frac{1}{x}$
$\exp(x)$	$\mathbb{R}$	$\mathbb{R}$	$\exp(x)$

Si  $f$  est dérivable au point  $x$  et  $g$  est dérivable au point  $f(x)$ , alors la fonction composée  $g \circ f$  est dérivable en  $x$  et vaut :

$$(g \circ f)'(x) = g'(f(x)) \cdot f'(x).$$

Soit  $f$  et  $g$  deux fonctions dérivables au point  $x$  définies respectivement sur  $E_f$  et  $E_g$ .

Opération	Dérivée
somme	$(f + g)' = f' + g'$
produit scalaire	$(af)' = af'$ pour $a \in \mathbb{R}$
produit	$(f \cdot g)' = f' \cdot g + g' \cdot f$
fraction	$\left(\frac{f}{g}\right)' = \frac{f' \cdot g - f \cdot g'}{g^2}$
	$\left(\frac{1}{g}\right)' = -\frac{g'}{g^2}$
puissance	$(f^a)' = af^{a-1} f'$
	$(\sqrt{f})' = \frac{f'}{2\sqrt{f}}$
ln	$(\ln(f))' = \frac{f'}{f}$
exp	$(\exp(f))' = f' \exp(f)$

(a)  $f(x) = x$

Type : affine  $y = ax + b$   
avec  $a = 1$  et  $b = 0$

$$f'(x) = 1$$

$1 > 0 \Rightarrow \forall x \in \mathbb{R}, f(x)$  est croissante

Je vais le noter «  $\nearrow$  »

(b)  $f(x) = 2 - 10x$

Type : affine

$$f'(x) = -10$$

$-10 < 0 \Rightarrow \forall x \in \mathbb{R}, f(x)$  est décroissante

Je vais le noter «  $\searrow$  »

(c)  $f(x) = 4 + 5x$

Devoir Maison

(d)  $f(x) = x^2$

Type : puissance

$$[x^{\textcircled{2}-1}]$$

$$f'(x) = 2x^{2-1} = 2x$$

$$f'(x) \begin{cases} > 0 & \text{si } x > 0 \\ < 0 & \text{si } x < 0 \end{cases} \Rightarrow \begin{matrix} f \nearrow & \text{si } x > 0 \\ f \searrow & \text{si } x < 0 \end{matrix}$$

(e)  $f(x) = 2x^2$

Type : puissance

Produit scalaire

$$f'(x) = (2x^2)' = 2(x^2)' = 2 \cdot 2x = 4x$$

Signe de  $f'$  (et monotonie de  $f$ ): comme d)

(f)  $f(x) = 1 - x^2$

Type : polynôme

somme / différence :  $(f \pm g)' = f' \pm g'$

$$f'(x) = (1 - x^2)' = (1)' - (x^2)' = 0 - 2x = -2x$$

$$f'(x) \begin{cases} > 0 & \text{pour } x < 0 \\ < 0 & \text{pour } x > 0 \end{cases} \Rightarrow f \begin{matrix} \nearrow & \text{pour } x < 0 \\ \searrow & \text{pour } x > 0 \end{matrix}$$

(g)  $f(x) = 3x^3 + 5x - 4$

Type : Polynôme

$$\begin{aligned} f'(x) &= (3x^3 + 5x - 4)' = 3(x^3)' + 5(x)' - (4)' \\ &= 3 \cdot 3x^2 + 5 \cdot 1 - 0 \\ &= 9x^2 + 5 \end{aligned}$$

$$f'(x) = \underbrace{9x^2}_{\geq 0} + \underbrace{5}_{> 0} > 0 \text{ pour tout } x \in \mathbb{R}$$

$\Rightarrow f(x)$  est  $\nearrow$  sur  $\mathbb{R}$

(h)  $f(x) = x^3 - 27x^2 + 144x$

Devoir Maison

(i)  $f(x) = 5x^3 - 9x^2 + 1$

Type: polynôme

$$\begin{aligned} f'(x) &= 5(x^3)' - 9(x^2)' + (1)' \\ &= 5 \cdot 3x^2 - 9 \cdot 2x + 0 \\ &= 15x^2 - 18x \end{aligned}$$

$$f'(x) = 3x(5x - 6) > 0$$

$$\Leftrightarrow \begin{array}{c} 0 \quad 6/5 \\ \hline + \quad - \quad + \end{array}$$

$$\Leftrightarrow x < 0 \vee x > 6/5$$

$$f(x) \text{ est } \begin{cases} \nearrow & \text{si } x < 0 \vee x > 6/5 \\ \searrow & \text{si } 0 < x < 6/5 \end{cases}$$

(j)  $f(x) = \frac{1}{1+x}$

Type: Fraction

$$\left(\frac{1}{g}\right)' = -\frac{g'}{g^2}$$

$$f'(x) = \left(\frac{1}{1+x}\right)' = -\frac{(1+x)'}{(1+x)^2} = -\frac{1}{(1+x)^2}$$

Signe de  $f'$ :  $(1+x)^2 \geq 0$  pour tout  $x \in \mathbb{R}$   
 $\Rightarrow -\frac{1}{(1+x)^2} < 0$  pour tout  $x \in \mathbb{R} \setminus \{-1\}$

$\Rightarrow f(x)$  est  $\searrow$  pour tout  $x \in \mathbb{R}, x \neq -1$

(k)  $f(x) = \frac{2x}{(1+x)^2}$

Type: fraction

$$\left(\frac{h}{g}\right)' = \frac{h'g - hg'}{g^2}$$

$$f(x) = \frac{2x}{1+2x+x^2}$$

$$f'(x) = \frac{(2x)' \cdot (1+2x+x^2) - (2x)(1+2x+x^2)'}{(1+2x+x^2)^2}$$

$$= \frac{2(1+x)^2 - 2x(2+2x)}{(1+x)^2)^2}$$

$$= \frac{2(1+x)^2 - 4x(1+x)}{(1+x)^4}$$

$$= \frac{\cancel{(1+x)}(2 \cdot \cancel{(1+x)} - 4x)}{(\cancel{(1+x)})^3}$$

$$= \frac{2(1+x) - 4x}{(1+x)^3} = \frac{2-2x}{(1+x)^3}$$

↓ continuation

(l)  $f(x) = \exp(x^2)$

Type: composition (exp o puissance)

$$(\exp(g))' = g' \cdot \exp(g)$$

$$\begin{aligned} f'(x) &= (\exp(x^2))' = (x^2)' \cdot \exp(x^2) \\ &= 2x \cdot \underbrace{\exp(x^2)}_{>0} \end{aligned}$$

$$f'(x) > 0 \Leftrightarrow 2x > 0 \Leftrightarrow x > 0$$

$$f'(x) < 0 \Leftrightarrow x < 0$$

Donc  $f \nearrow$  pour  $x > 0$

$f \searrow$  pour  $x < 0$

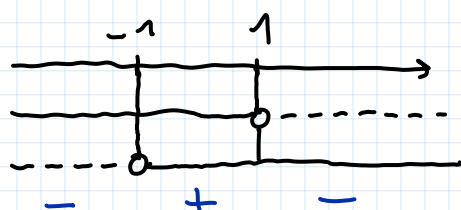
(m)  $f(x) = \exp(3x+2)$

Devoir Maison

Signe  $f'(x) = \frac{2-2x}{(1+x)^3}$

Num:  $2-2x > 0 \Leftrightarrow x < 1$

Denom:  $(1+x)^3 > 0 \Leftrightarrow x > -1$



$$f'(x) \begin{cases} > 0 & \text{pour } -1 < x < 1 \\ < 0 & \text{pour } x < -1 \vee x > 1 \end{cases}$$

Donc

$$f \begin{cases} \nearrow \text{ " } \nearrow \text{ " } & \text{pour } -1 < x < 1 \\ \searrow \text{ " } \searrow \text{ " } & \text{pour } x < -1 \vee x > 1 \end{cases}$$

(n)  $f(x) = \ln(x)$  pour  $x > 0$

Voir le formulaire...

(o)  $f(x) = \ln(3x-2)$  pour  $x > \frac{2}{3}$

Type: compos. (log o affine)

$$(\ln(g))' = \frac{g'}{g}$$

$$f'(x) = (\ln(3x-2))' = \frac{(3x-2)'}{3x-2} = \frac{3}{3x-2}$$

Puisque  $x > \frac{2}{3} \Leftrightarrow 3x-2 > 0$ , on

a  $f'(x) > 0$  pour tout  $x > \frac{2}{3}$

$\Rightarrow f$  est  $\nearrow$  sur  $]\frac{2}{3}, +\infty[$ .

(p)  $f(x) = (1+2x)^2$

Devoir Maison (voir (q))

(q)  $f(x) = (x^2+3x+1)^2$

Type: compos. (puiss o poly)

mais aussi polynôme

$$(g^a)' = a g^{a-1} \cdot g'$$

$a=2$

$g = x^2+3x+1$

$$f'(x) = ((x^2+3x+1)^2)' = 2(x^2+3x+1)^1 \cdot (x^2+3x+1)' = 2(x^2+3x+1) \cdot (2x+3)$$

Signe de  $f$  [POST TD]; il faut étudier le signe de  $x^2+3x+1$  et  $2x+3$

Continuation

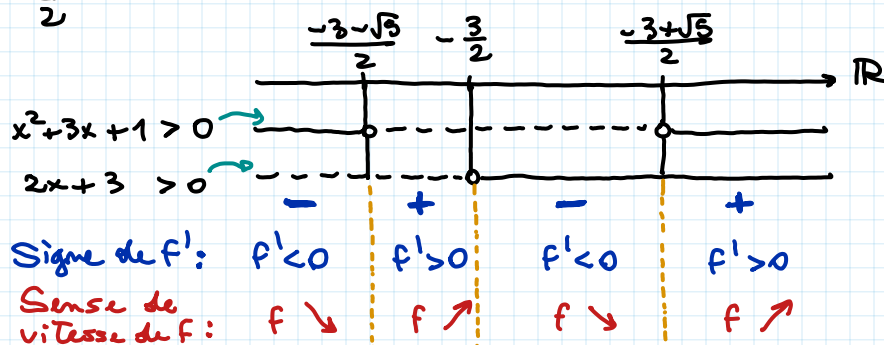
Rappel:  $x^2 + 3x + 1 = 0 \Leftrightarrow x = \frac{-3 \pm \sqrt{5}}{2}$  ← racines du polynôme

•  $x^2 + 3x + 1 > 0 \Leftrightarrow x < \frac{-3 - \sqrt{5}}{2} \vee x > \frac{-3 + \sqrt{5}}{2}$

•  $2x + 3 > 0 \Leftrightarrow x > -\frac{3}{2}$

Noter que

$$\frac{-3 - \sqrt{5}}{2} = -\frac{3}{2} - \frac{\sqrt{5}}{2} < -\frac{3}{2}$$



(r)  $f(x) = \frac{1}{\exp(1+x)}$

Type : composition (fraction, exp, affine)

Manière plus rapide pour calculer  $f'(x)$  : plutôt que d'utiliser la formule

$$\left(\frac{1}{g}\right)' = -\frac{g'}{g^2},$$

on peut utiliser les propriétés de  $\exp$  :

$$f(x) = \frac{1}{\exp(1+x)} = \exp(-(1+x)) = \exp(-1-x)$$

Et maintenant :  $(\exp(g))' = g' \cdot \exp(g)$

$$f'(x) = (\exp(-1-x))' = \underbrace{(-1-x)}_{-1}' \cdot \exp(-1-x) = -\exp(-1-x) = -\frac{1}{\exp(1+x)}$$

Signe :  $f'(x) < 0$  pour tout  $x \in \mathbb{R}$ , car  $\exp(x+1) > 0$  pour tout  $x \in \mathbb{R}$ .

Donc  $f(x)$  est  $\searrow$  sur  $\mathbb{R}$ .

## 2.3 Evolution de la fonction de coûts

Soit une entreprise qui produit un bien. Elle souhaite connaître comment évolue son coût moyen de production en fonction de son volume de production  $Q$ . On a  $Q > 0$  et la fonction de coût total de l'entreprise est  $C(Q) = \frac{1}{3}Q^3 - 10Q^2 + 100Q$ .

1. On rappelle que la fonction de coût moyen, notée  $C_M(\cdot)$  est par définition  $C_M(Q) = \frac{C(Q)}{Q}$ . Donnez l'expression de la fonction de coût moyen de l'entreprise.
2. Quel est le type de la fonction de coût moyen?
3. Comment évolue la fonction de coût moyen en fonction du volume de production  $Q$ ? Pour répondre à cette question, suivez les étapes suivantes :
  - (a) Calculez la dérivée de la fonction de coûts moyen par rapport aux quantités  $Q$ . Commentez.
  - (b) Pour quelle(s) valeur(s) de  $Q$  la dérivée est-elle positive, négatives et nulle?
  - (c) Concluez.

$$1. \quad C_M(Q) = \frac{C(Q)}{Q} = \frac{\frac{1}{3}Q^3 - 10Q^2 + 100Q}{Q} = \frac{1}{3}Q^2 - 10Q + 100$$

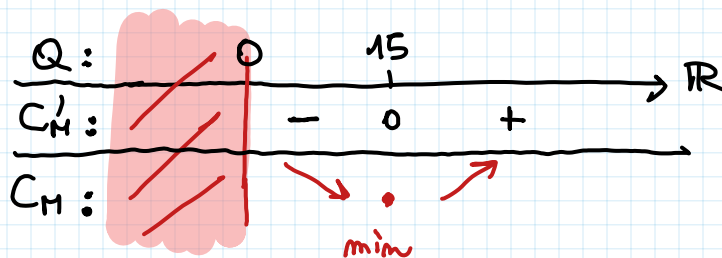
2. Fonction polynôme

$$3. \quad (a) \quad C'_M(Q) = \frac{1}{3} \cdot 2Q - 10 \cdot 1 + 0 = \frac{2}{3}Q - 10.$$

$$(b) \quad C'_M(Q) \geq 0 \Leftrightarrow \frac{2}{3}Q - 10 \geq 0 \Leftrightarrow \frac{2}{3}Q \geq 10 \\ \Leftrightarrow Q \geq \frac{3}{2} \cdot 10 = 15$$

Donc  $C_M(Q)$  est  $\begin{cases} \text{CROISSANTE pour } Q > 15 \\ \text{DÉCROISSANTE pour } 0 < Q < 15 \end{cases}$

$$C'_M(Q) = 0 \Leftrightarrow Q = 15 \quad (\text{déjà vu : } \frac{2}{3}Q - 10 = 0 \Leftrightarrow Q = 15)$$



Si le volume de production est compris entre 0 et 15, le coût moyen diminue.  
Si  $Q > 15$ , alors le coût moyen augmente.